
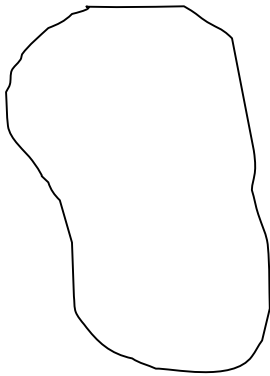


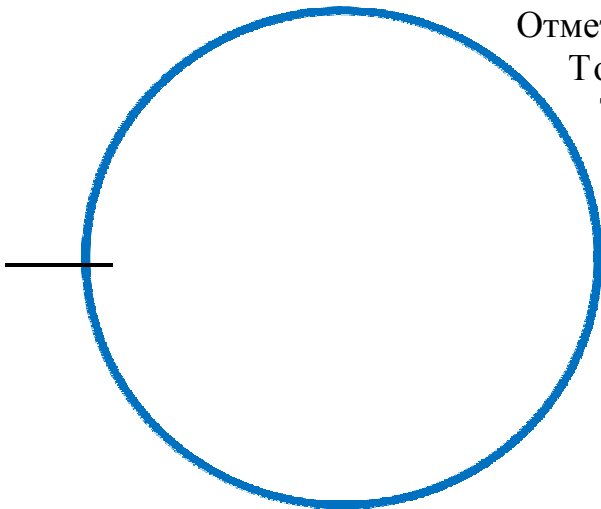
Ф.И. _____

Тема урока «Окружность и круг» Дата 26 января

Задание №1:



Задание №6:


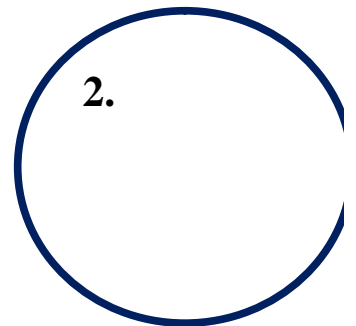
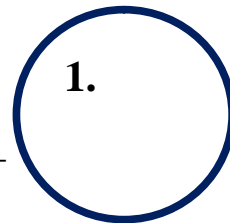


Отметьте точки А, В и С, лежащие внутри круга.
Точки D, E и K, лежащие на окружности.
Точки F, M и N, лежащие вне круга.

Задание №7:

Измерь радиусы окружностей _____

Запиши, чему равны диаметры каждой из фигур _____



Опиши свои впечатления о уроке-исследовании:

1. Спасибо за...
2. Я узнал...
3. Хорошо, что...
4. Мне понравилось...
5. Меня удивило...